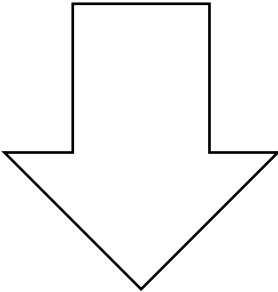

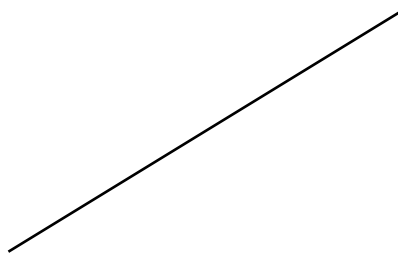
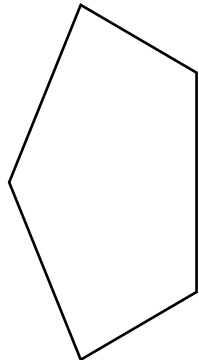

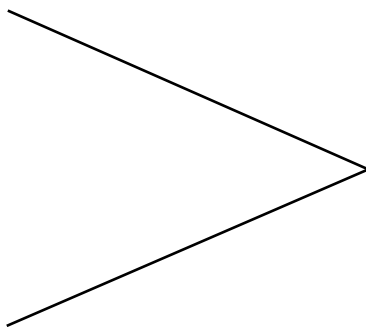
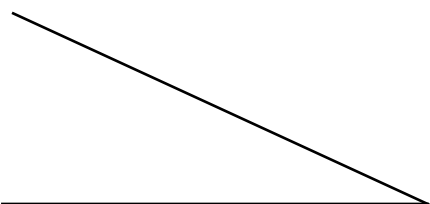
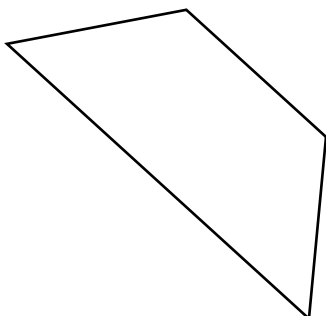


خط تقارن هر یک از شکل‌های زیر را با استفاده از خط‌کش، گونیا و نقاله رسم کنید.

عمود منصف یک پاره‌خط را توصیف کنید؛ یعنی بگویید که در چه نقطه‌ای و با چه زاویه‌ای پاره‌خط را قطع می‌کند؟

همچنین، روشی برای رسم عمود منصف پیشنهاد کنید؟

.....

.....

.....

.....

.....

.....

.....

نیمساز یک زاویه را توصیف کنید.

همچنین، روشی را برای رسم نیمساز پیشنهاد کنید.

.....

.....

.....

.....

.....

.....

.....