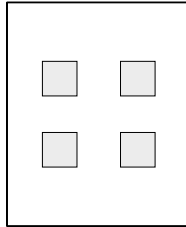
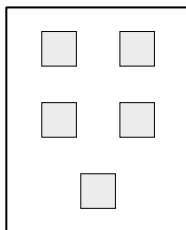


۱. روی هر مربع این کارت یک دسته‌ی پنج‌تایی چینه گذاشتیم. روی این کارت چند چینه قرار گرفته است؟

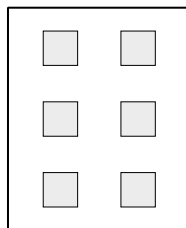


۲. یک دسته چینه را دو برابر کردم و حالا ۱۰ چینه دارم. دسته‌ی چینه‌ها در ابتدا چندتایی بود؟

۳. روی هر مربع این کارت یک دسته‌ی سه‌تایی چینه گذاشتم. می‌خواهم چینه‌های روی کارت را دو برابر کنم. چه روشی پیشنهاد می‌کنی؟



۴. روی هر مربع این کارت یک دسته‌ی شش‌تایی چینه گذاشتم و بعد از شمارش فهمیدم ۳۶ چینه روی کارت قرار دارد.



- حالا می‌توانی بدون حساب و کتاب بگویی که اگر روی هر مربع کارت زیر، یک دسته‌ی شش‌تایی چینه بگذارم، چند تا چینه روی این کارت قرار می‌گیرد؟

