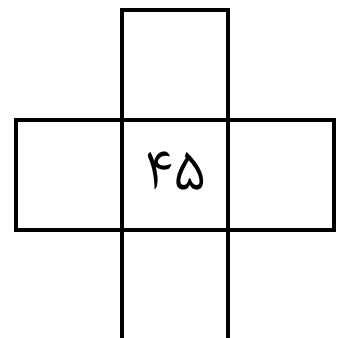
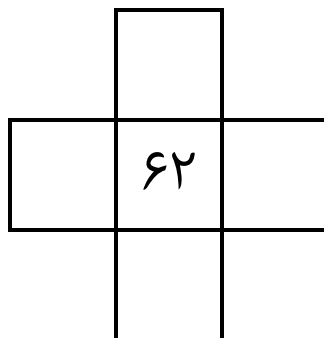
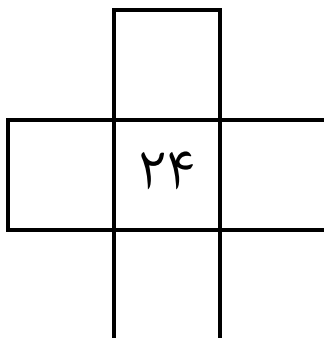
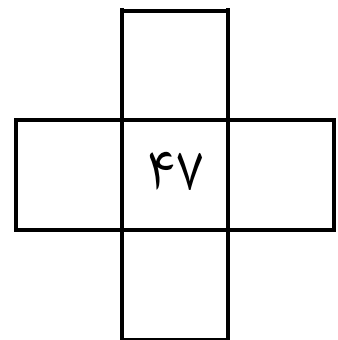
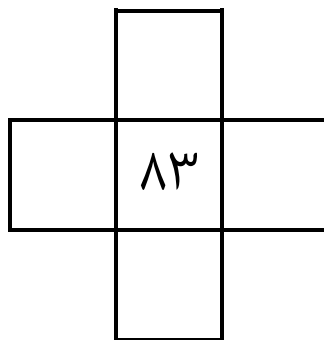
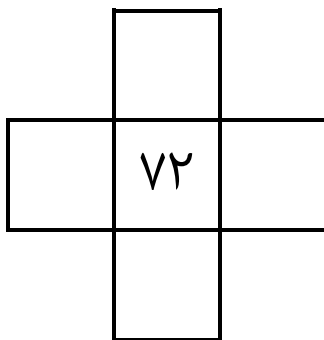
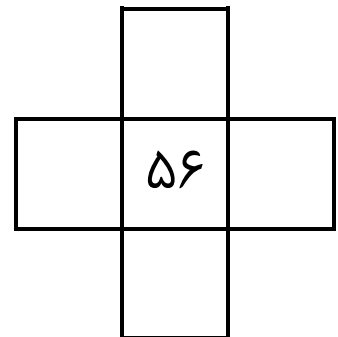
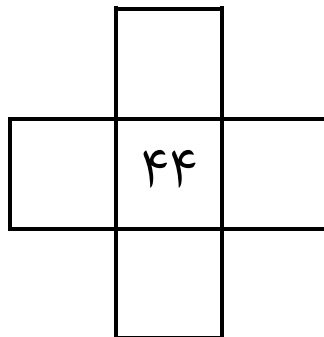
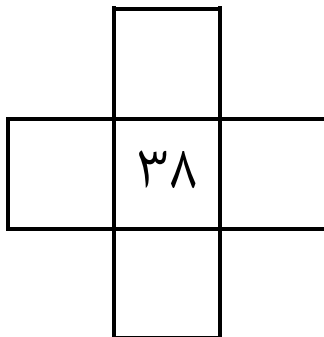
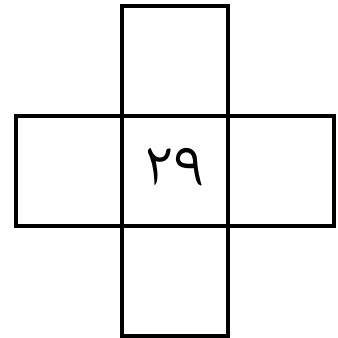
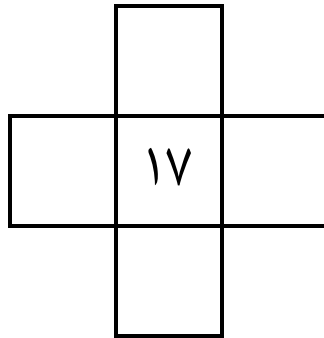
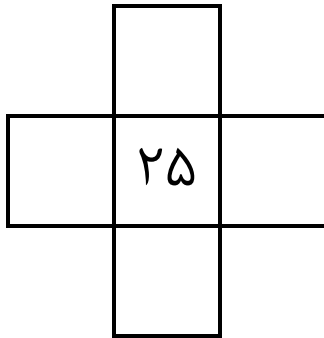


هر کدام از این‌ها، قطعه‌ای از جدول ۱ تا ۱۰۰ است. با نوشتن عددهای مناسب، قطعه‌ها را کامل کن.



هر کدام از این‌ها، قطعه‌ای از جدول ۱ تا ۱۰۰ است. با نوشتن عددهای مناسب، قطعه‌ها را کامل کن.

| | | |
|--|----|--|
| | | |
| | ۲۷ | |
| | | |

| | | |
|--|----|--|
| | | |
| | ۱۵ | |
| | | |

| | | |
|--|----|--|
| | | |
| | ۲۲ | |
| | | |

| | | |
|--|----|--|
| | | |
| | ۳۴ | |
| | | |

| | | |
|--|----|--|
| | | |
| | ۴۳ | |
| | | |

| | | |
|--|----|--|
| | | |
| | ۵۷ | |
| | | |

| | | |
|--|----|--|
| | | |
| | ۷۳ | |
| | | |

| | | |
|--|----|--|
| | | |
| | ۸۷ | |
| | | |

| | | |
|--|----|--|
| | | |
| | ۴۲ | |
| | | |

| | | |
|--|----|--|
| | | |
| | ۲۶ | |
| | | |

| | | |
|--|----|--|
| | | |
| | ۶۹ | |
| | | |

| | | |
|--|----|--|
| | | |
| | ۴۸ | |
| | | |